

## Тестовые задания

**Определите один правильный ответ.** За правильный ответ начисляется 2 балла. 0 баллов выставляется за неправильный ответ, а также если участником отмечено более одного ответа (в том числе правильный).

## + 1. Пассажир –

- а) лицо, кроме водителя, находящееся в транспортном средстве, входящее в него или выходящее из него б) только лицо, находящееся в транспортном средстве и выходящее из него  
в) только лицо, сажающееся в транспортное средство и находящееся в нём  
г) только лицо, входящее в транспортное средство и выходящее из него

## + 2. Какой вид костра рекомендуется использовать только для приготовления пищи?

- а) «шалаш» б) «пирамида» в) «колодец» г) «полинезийский»

## + 3. В том случае, если космонавтов не сразу обнаружили после возвращения на Землю, до прибытия спасателей им помогает выжить

- а) SOS б) АМС в) ИСС г) НАЗ

## + 4. На знамени МЧС России вышиты слова

- а) «Спасать, тушить, предупреждать»  
б) «Предотвращение, спасение, помощь»  
в) «Спасение во имя жизни – наше призвание»  
г) «Учимся побеждать, предупреждать и спасать»

## + 5. При выходе из зоны возможного химического заражения рекомендуется двигаться

- а) перпендикулярно направлению ветра  
б) параллельно направлению ветра  
в) по ветру  
г) по диагонали относительно направления ветра

## + 6. Единым номером вызова экстренных оперативных служб является

- а) 1-1-2 б) 1-0-3 в) 1-1-1 г) 1-0-4

## + 7. Обнаружен бесхозный предмет. Установите минимальный радиус зоны эвакуации.

- а) 250 м б) 230 м в) 460 м г) 200 м

## + 8. Канцерогенные вещества, содержащиеся в табачном дыме, приводят к развитию

- а) заболеваний сердца б) злокачественных новообразований в) заболеваний суставов г) сосудистой патологии

## + 9. При частичном нарушении проходимости дыхательных путей, когда человек подавился, но может разговаривать, первую помощь рекомендуется начать с



- а) нанесения 5 ударов между лопатками  
б) предложения покашлять  
в) выполнения приёма Геймлиха  
г) предложения выпить тёплой воды

## + 10. Велосипедист упал, повредил ногу в нижней трети голени. Какое минимальное количество суставов необходимо иммобилизовать, если выявлены признаки перелома?

- а) один б) два в) три г) четыре

**Определите два правильных ответа.** За каждый правильный ответ начисляется 2 балла. 0 баллов выставляется за неправильный ответ, а также если участником отмечены более двух ответов (в том числе правильные).

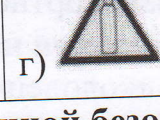
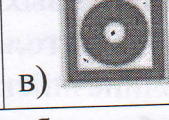


†11. При наличии какой разметки допускается переходить проезжую часть между противоположными углами перекрёстка (по диагонали)?



†12. В какие деревья реже всего бьёт молния?

- а) липа б) дуб в) тополь г) ель **д) акация**

†13. Выберите знаки, которые в совокупности означают «Место размещения нескольких средств противопожарной защиты находится наверху».



†14. Находясь на эскалаторе, для обеспечения личной безопасности НЕ рекомендуется

- а) прислоняться к неподвижным частям  
б) проходить с левой стороны  
в) держаться за поручень эскалатора  
г) наступать на жёлтую линию на ступенях эскалатора  
д) стоять справа лицом по направлению его движения

†15. Прочным считается лёд с

- а) зеленоватым оттенком  
б) молочным оттенком  
в) синеватым оттенком  
г) серым оттенком  
**д) фиолетовым оттенком**

†16. В толпе рекомендуется руки держать

- а) перед грудью б) перед лицом в) выпрямленными в локтях **г) согнутыми в локтях** д) в карманах

†17. В Главное управление по противодействию экстремизму МВД России Вы можете подать электронное заявление о

- а) кибербуллинге б) скулшутинге в) суициде г) клевете д) незаконном обороте оружия

†18. Какое влияние оказывает никотин на организм человека?


- а) вызывает сужение сосудов  
б) улучшает кровоснабжение внутренних органов  
в) вызывает развитие злокачественных новообразований  
г) в низких дозах возбуждает, в высоких – угнетает ЦНС  
д) не вызывает привыкания

†19. К закрытым механическим травмам относят

- а) ушибы б) растяжения в) отравления г) ожоги д) отморожения

†20. При каких травмах пострадавшему придают оптимальное положение тела, изображённое на рисунке?

- а) переломе рёбер  
б) травме голени  
в) травме позвоночника  
г) травме живота  
**д) травме таза**



### Задание 1

Аварийно химически опасное вещество (АХОВ) – опасное химическое вещество, применяемое в промышленности, сельском хозяйстве, при аварийном выбросе (разливе) которого может произойти загрязнение окружающей среды, поражение людей и живой природы.

1. Определите название АХОВ по его описанию: газ жёлто-зелёного цвета с резким запахом.

4 Ответ: хлор.

2. Определите его свойства:

а) Легче воздуха, поэтому скапливается на верхних этажах зданий.

б) Тяжелее воздуха, поэтому скапливается в низинных участках местности, проникает в подвальные помещения и нижние этажи зданий.

в) Немного легче воздуха, плохо растворим в воде.

3 Ответ: б.

3. Определите признаки отравления:

а) Головная боль, головокружение, нарушение координации движений, покраснение кожи, нарушения психической деятельности (эйфория, утрата самоконтроля и т. п.). Позже развиваются судороги, утрачивается сознание, и, если не принять экстренные меры, человек может погибнуть вследствие остановки сердца.






3 б) Металлический привкус во рту, слабость, головокружение, беспокойство, расширение зрачков, замедление пульса, судороги.

в) Резкая боль в груди, сухой кашель, рвота, резь в глазах и слезотечение.

Ответ: б.

### Задание 2

Перед поворотом и остановкой велосипедист обязан подавать сигналы. Установите соответствие между изображением сигнала и его значением: «поворот налево», «поворот направо», «торможение».

	поворот налево
	поворот направо
	торможение
	
	

Blue arrows indicate the following matches: Top image to 'поворот налево', Middle image to 'поворот направо', and Bottom image to 'торможение'.